







MASSE	Séquence 2	Séance 5	1/2
CE1	S'ENTRAÎNER		

	Nadine pèse 58 kg, Siham 33 kg. L'ascenseur qu'elles veulent prendre peut supporter 70 kg. Peuvent-elles monter dans l'ascenseur à deux en même temps ?
	Recherche / calcul


	Mohamed pèse 31 kg. Il monte sur la balance avec son chien dans les bras. La balance indique 40 kg. Combien le chien pèse-t-il ?
	Recherche / calcul


	Hélène pesait 76 kg avant de faire un régime. Elle pèse maintenant 64 g. Quelle masse a-t-elle perdue ?
	Recherche / calcul


MASSE	Séquence 2	Séance 5	2/2
CE1	S'ENTRAÎNER		

Choisis le type de balance à utiliser en fonction de l'objet à peser.

	 Balance de Roberval	 Balance de cuisine électronique	 Balance à aiguille	 Pèse-personne
Peser une valise de 17 kg				
Peser une boîte de céréales de 250 g				
Peser un adulte de 50 kg				
Peser une lettre de 16 g				
Peser un paquet de bonbons de 328 g				
Peser un sac de pommes de terre de 2 kg				